

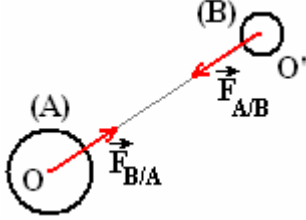
# التجاذب الكوني

## I) التأثير البيئي التجاذبي بين جسمين:

### (1) قانون نيوتن للتجاذب الكوني:

جميع الأجسام المادية تتجاذب بسبب كتلتها، فيطبق بعضها على بعض قوى تأثير تجاذبي.

### (2) الصياغة الرياضية لقانون نيوتن:



يوجد بين نقطتين ماديتين A و B كتلتيهما  $m_A$  و  $m_B$  وتفصل بينهما المسافة  $d$  تأثير بيئي تجاذبي قوته  $\vec{F}_{A/B}$  و  $\vec{F}_{B/A}$  لهما نفس الشدة:

$$F_{A/B} = F_{B/A} = F = G \cdot \frac{m_A \cdot m_B}{d^2}$$

ثابتة التجاذب الكوني:  $G = 6,67 \times 10^{-11} \text{N.m}^2.\text{Kg}^{-2}$

$m_A$ : كتلة الجسم (A)

$m_B$ : كتلة الجسم (B)

$d = OO'$ : المسافة بين مركزي الجسمين (A) و (B).

القوتان  $\vec{F}_{B/A}$  و  $\vec{F}_{A/B}$  لهما:

- نفس خط التأثير.
- منحنيان متعاكسان.
- نفس الشدة.

### (3) تمرين تطبيقي:

أحسب شدة قوة التجاذب الكوني في الحالتين التاليتين:

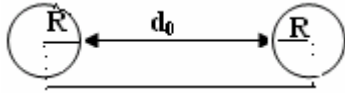
(أ) بين كرتين حديديتين ممتثلتين كتلة كل واحدة  $m = 5\text{Kg}$  و شعاع كل واحدة  $R = 10\text{cm}$  و تفصل بين سطحيهما مسافة  $d_0 = 80\text{cm}$

(ب) بين الأرض و كرة حديدية كتلتها  $m = 5\text{Kg}$  على سطح الأرض نطوي: كتلة الأرض:  $M_T = 5,97 \cdot 10^{24} \text{Kg}$

شعاع الأرض:  $R_T = 6370\text{Km}$

(ج) أوجد شدة وزن الكرة الحديدية على سطح الأرض علما أن شدة الثقالة هي:  $g_o = 9,8 \text{N / Kg}$  ماذا تستنتج؟

(أ) لنحدد المسافة الفاصلة بين مركزي الكرتين: نصحيح:



$$d = d_0 + 2R = 80 + 20 = 100\text{cm} = 1\text{m}$$

$$F = G \cdot \frac{m \times m}{(d_0 + 2R)^2} = 6,67 \times 10^{-11} \times \frac{5\text{Kg} \times 5\text{Kg}}{(0,80 + 0,20)^2 \text{m}^2} = 6,67 \times 10^{-11} \times \frac{25}{1} = 1,68 \times 10^{-9} \text{N}$$

وهي قيمة جد صغيرة.

$$F = G \times \frac{M_T \times m}{R_T^2} = 6,67 \times 10^{-11} \times \frac{5,97 \times 10^{24} \text{Kg} \times 5\text{Kg}}{(6370 \times 10^3 \text{m})^2} = 49 \text{N} \quad (\text{ب})$$

$$P = m \times g = 5\text{Kg} \times 9,8 \text{N / Kg} = 49 \text{N} \quad (\text{ج})$$

نستنتج: (من خلال ب) و (ج) أن شدة وزن جسم على سطح الأرض تساوي شدة قوة التجاذب الكوني المطبقة عليه من طرف الأرض. ومن خلال أ) و ب) أن ظاهرة التجاذب الكوني بين جسمين ظاهرة عامة مرتبطة بوجود المادة. غير أن تأثيراته لا يمكن قياسها أو إدراكها إلا إذا كان أحد الجسمين على الأقل في حجم كوكب.

### (4) وزن جسم:

(1) وزن جسم:

نسمي الوزن  $\bar{P}$ : لجسم (S) القوة المقرونة بتأثير الأرض على هذا الجسم (وهي تطابق قوة التأثير البيئي الجاذبي المطبقة من طرف الأرض عليه).

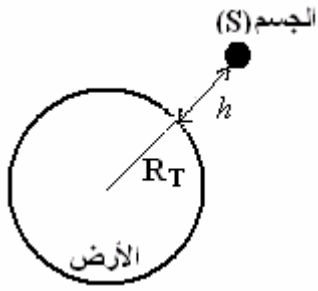
وشدة وزن جسم كتلته  $m$  تعطى لنا العلاقة التالية:  $P = m \times g$

$g$ : شدة الثقالة ب (N / Kg).

$m$ : كتلة الجسم ب (Kg).

$P$ : وزن الجسم ب: (N).

(2) تغير شدة مجال الثقالة بتغير الإرتفاع:



يعبر عن الشدة المشتركة لقوة التأثير البيني الجاذبي بين الأرض وجسم (S) كتلته  $m$  يوجد في الارتفاع  $h$  من سطح الأرض بالعلاقة:

$$F = G \cdot \frac{m \cdot M_T}{(R_T + h)^2}$$

$$F = G \cdot \frac{m \cdot M_T}{(R_T + h)^2} = m \cdot g_h \quad : \quad \text{وهي مساوية لشدة وزن الجسم في الارتفاع } h$$

ومنه نستخرج:  $g_h = G \cdot \frac{M_T}{(R_T + h)^2}$  شدة الثقالة في الارتفاع  $h$  من سطح الأرض.

ونحصل على تعبير شدة الثقالة على سطح الأرض بإعطاء الارتفاع  $h$  القيمة صفر في العلاقة السابقة:  $g_o = G \cdot \frac{M_T}{R_T^2}$

(3) العلاقة بين شدة  $g_o$  و  $g_h$

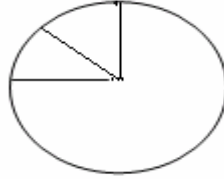
$$g_h \times (R_T + h)^2 = g_o \times R_T^2 \quad \Leftrightarrow \quad \begin{cases} g_h \times (R_T + h)^2 = G \cdot M_T \\ g_o \times R_T^2 = G \cdot M_T \end{cases} \quad \text{من خلال العلاقتين السابقتين لدينا:}$$

$$g_h = g_o \cdot \frac{R_T^2}{(R_T + h)^2} \quad \text{و بالتالي: شدة الثقالة في الارتفاع } h$$

شدة الثقالة تتناقص كلما ابتعدنا عن سطح الأرض أي كلما ازداد الارتفاع  $h$ .

(4) تغيرات  $g_o$  حسب خط العرض:

يعزى تغير شدة الثقالة إلى كون الأرض مسطحة من القطبين الشيء الذي يجعل شعاع الأرض يتناقص كلما انتقلنا من خط الإستواء نحو أحد القطبين وبذلك يزداد تأثير مركز الأرض بالإضافة إلى مفعول دوران الأرض حول نفسها.



## II سلم المسافات في الكون و الذرة:

وحدة قياس المسافات في النظام العالمي للوحدات هي المتر الذي نرسم إليه ب: (m). يعطي الجدول التالي بعض أجزاء ومضاعفات المتر:

| المضاعفات |           |       | لوحة | الاجزاء |          |            |
|-----------|-----------|-------|------|---------|----------|------------|
| $10^1$    | <b>da</b> | déca  | (m)  | déci    | <b>d</b> | $10^{-1}$  |
| $10^2$    | <b>h</b>  | hecto |      | centi   | <b>c</b> | $10^{-2}$  |
| $10^3$    | <b>K</b>  | Kilo  |      | milli   | <b>m</b> | $10^{-3}$  |
| $10^6$    | <b>M</b>  | méga  |      | micro   | <b>μ</b> | $10^{-6}$  |
| $10^9$    | <b>G</b>  | giga  |      | nano    | <b>n</b> | $10^{-9}$  |
| $10^{12}$ | <b>T</b>  | Téra  |      | pico    | <b>p</b> | $10^{-12}$ |
| $10^{15}$ | <b>P</b>  | péta  |      | femto   | <b>f</b> | $10^{-15}$ |
| $10^{18}$ | <b>E</b>  | exa   |      | atto    | <b>a</b> | $10^{-18}$ |

لكن في علم الفلك نستعمل وحدات أخرى مثل الوحدة الفلكية والسنة الضوئية.

الوحدة الفلكية U.A l'unité astronomique

وحدة تستعمل لقياس المسافات وهي تساوي المسافة المتوسطة بين الأرض و الشمس و تقدر ب150 مليون كيلومتر.

$$1 \text{ U.A.} = 150 \times 10^6 \text{ Km}$$

السنة الضوئية A.L L'année lumière

هي المسافة التي يقطعها الضوء خلال سنة واحدة بسرعة  $c = 3 \times 10^8 \text{ m/s}$

$$1 \text{ A.L.} = 9,5 \times 10^{15} \text{ m}$$

**Abdelkrim SBIRO**

(Pour toutes observations contactez mon email)

sbiabdou@yahoo.fr